

الفرض التقويمي الثاني في مادة التاريخ

السياق :

عرفت من خلال دراستك للخلافة العباسية أن الفتوحات الإسلامية في عهدها وصلت إلى شمال إفريقيا , وعرفت تطورا و ازدهارا كبيرا في مختلف المجالات , لكن عندما بدأ الضعف يدب فيها , ظهرت دويلات في المنطقة و انفصلت عنها , فدفعك ذلك للبحث عن الأسباب التي دفعت الفاتحين لإكمالها و ما نتج عنه من تغير .

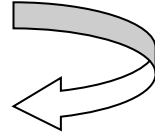
السندات :

السند 1: أذكر من وجهة نظري أهم أسباب فتح بلاد المغرب :

..... / 1

..... / 2

..... / 3



السند 2: أبرز بعض مظاهر تحول شمال إفريقيا إلى مغرب إسلامي :



جامع عقبة بالقيروان



..... /1

..... /2

..... /3



السند 3 :/ أعين على الخريطة الدول التي استقلت عن الدولة العباسية في المغرب :

التعليمة : أكتب فقرة من 08 أسطر تجيب فيها عن تساؤلاتك مستدلا على ما يجب ملاءه من فراغات في السندات السابقة .

العلامة:

الفرض التقويمي الثاني في مادة الجغرافيا

السياق :

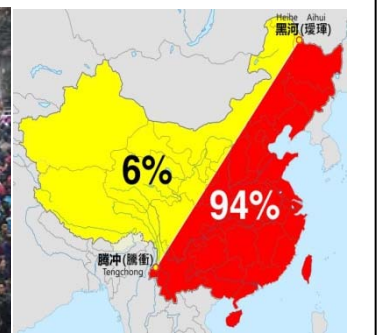
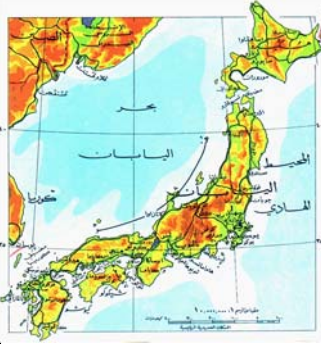
شاهدت في فلما وثانقيا أن الصين و اليابان دولتان تواجهان معيقات متنوعة وهما تعملان على مواجهتهما بمختلف الوسائل , فقررت ان تبحث في الأمر.

السندات :

1/ أقرن بين الصين و اليابان من حيث:

اليابان	الصين	
.....	الموقع
.....	المساحة
.....	حجم السكان

2/ اعتمادا على الخريطين أحدد أهم المعيقات التي يواجهها البلدين :



اليابان:

.....

الصين:

.....

3/ أوضح السبل التي اتخذها كلا البلدين لتحقيق الموازنة بين تلك المعيقات و الوسائل التكنولوجية :

.....*
.....*
.....*
.....*