

1- اربط بسهم كل عنصر مع وظيفته:

البطارية	نقل التيار الكهربائي
المصباح	التحكم في المصباح
الأسلاك	التوهج
القاطعة	توليد الطاقة الكهربائية

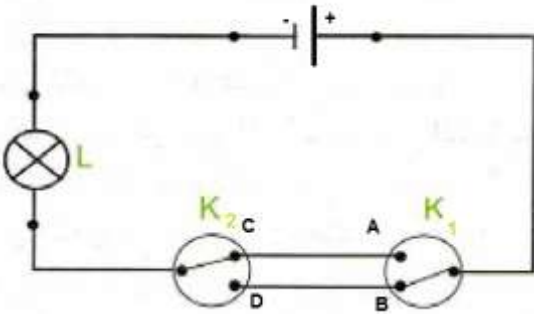
2- أجب بصحيح أو خطأ مع تصحيح الخطأ إن وجد:

- جهة التيار الكهربائي من القطب السالب إلى القطب الموجب .....
- .....  
المواد الناقلة هي التي لا تسمح بمرور التيار الكهربائي .....
- .....  
عند استقصار المواد (البطارية) لا تستقصر كل الدارة .....
- .....  
الربط المختلط يتضمن الربط على التسلسل والربط على التفرع .....
- .....

3- يمثل المخطط المقابل دارة كهربائية للتحكم في مصباح:

كيف تسمى هذه الدارة؟

متى نستعمل هذا النوع من الدارات؟ مع ذكر مثال.



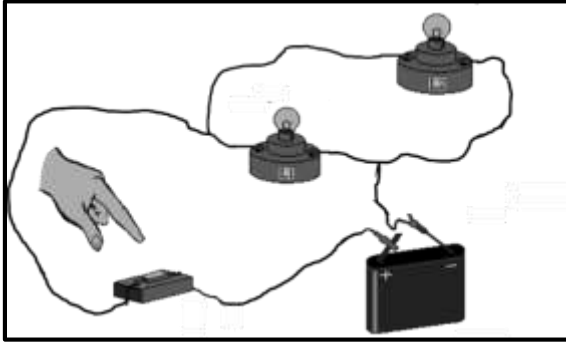
4- املأ الفراغ بما يناسب:

- حتى يكون توهج المصباح ..... يجب ان تكون دلالاته ..... مع دلالة البطارية.

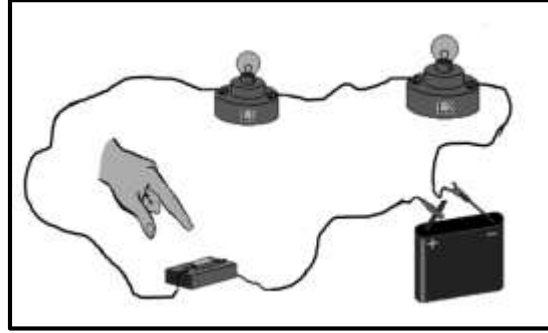
اقلب الورقة

الوضعية الثانية: ( 10 نقاط )

أنجزت فاطمة دارتين مختلفتين لإشعال مصباحين متماثلين دلالتهما 3.8v بواسطة بطارية 4.5 v كما هو مبين في الشكل أدناه:



الدائرة الثانية



الدائرة الأولى

1. ما نوع الربط في كل دائرة؟ كيف يكون توهج المصباحان؟

- الدائرة الأولى: .....
- الدائرة الثانية: .....

2. ماذا يحدث لو نزعنا المصباح  $L_1$  في كل دائرة بعد غلق القاطعة؟ علل

- الدائرة الأولى: .....
- الدائرة الثانية: .....

3. أرسم المخطط النظامي لكل دائرة مع تحديد اتجاه التيار الكهربائي (أرسم المخطط داخل الإطار)

الدائرة الثانية	الدائرة الأولى

4. إذا وضعنا سلكاً ناقلاً بين مربطي المصباح  $L_2$  في الدائرة الثانية ماذا يحدث؟

- .....
- كيف تسمى هذه الدائرة؟ .....
- كيف تتجنب أخطار هذا النوع من الدارات؟ .....