



ECOLE SALIM



الجمهورية الجزائرية الديمقراطية الشعبية

وزارة التربية الوطنية

مؤسسة التربية والتعليم الخاصة سليم

ETABLISSEMENT PRIVE D'EDUCATION ET D'ENSEIGNEMENT SALIM

www.ets-salim.com 021 85 62 04 021 87 16 89 Hai Galloul - bordj el-bahri alger

رخصة فتح رقم 1088 بتاريخ 30 جانفي 2011

تحتصري- ابتدائي- متوسط - ثانوي

اعتماد رقم 67 بتاريخ 06 سبتمبر 2010

فيفري : 2018

## فرض الفصل الثاني في مادتي التاريخ و الجغرافيا المستوى: الأولى متوسط 1AM

### أولاً: تاريخ

1- إربط بسهم ما يناسب : ( 3 ن )

الأمازيغ  
اللوبيون  
البربر  
البعيدون عن الحضارة اللاتينية  
الرجال الأحرار  
استوطنوا المناطق الواقعة غرب مصر

2- إملأ الفراغات بالعبارات المناسبة : ( 2 ن )

الأودية - أزمنة قديمة جدا - السهول - آثاره - المسطحات المائية العذبة - عين الحنش

يعود تواجد الإنسان في شمال إفريقيا إلى ..... حيث أنه استقر  
حول ..... و .....، و قد أوضحت  
..... التي كانت شاهدة على ذلك وجود مناطق ك.....

3- اشرح كيف كانت علاقة سكان شمال إفريقيا مع الفينيقيين : ( 2 ن )

.....  
.....  
.....

4 - رتب العبارات التالية بالأرقام (1.2.3) حسب التنظيم الاجتماعي لسكان شمال إفريقيا : ( 3 ن )

- العشيرة هي مجموعة من العائلات المنحدرة من جد واحد .....
- القبيلة هي مجموعة من العشائر .....
- الأسرة هي مجموعة من الأفراد تربط بينهم روابط متينة .....

حي قعلول - برج البحري - الجزائر

## ثانيا : جغرافيا

1- أجب بصحيح أو خطأ ( 3ن )

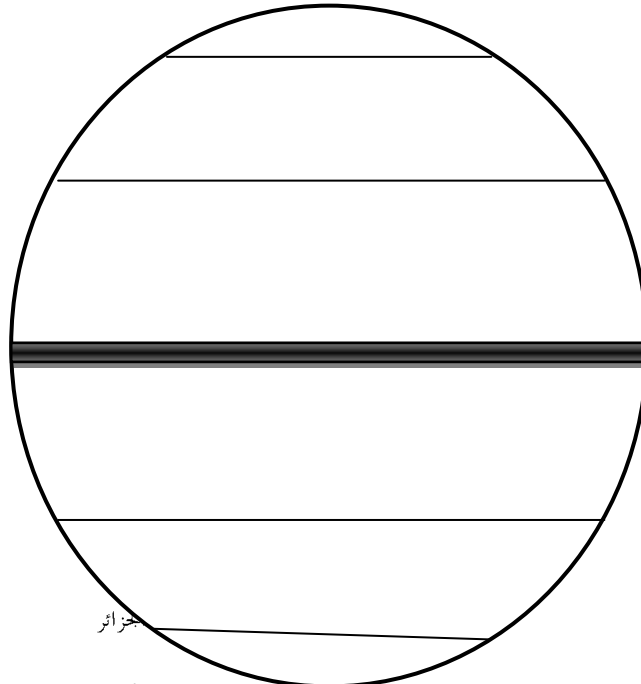
- السهول هي مساحات مرتفعة عن سطح الأرض
- الجبال هي تضاريس منبسطة لا تزيد عن 400 م
- السهول الساحلية هي السهول التي تمتد على سواحل البحار والمحيطات

2- اربط كل منطقة بما يميزها : ( 3 ن )

المنطقة المعتدلة	-الغابات الإستوائية
المنطقة الحارة	- ارتفاع درجات الحرارة
المنطقة الباردة	-ظاهرة الفصول الأربعة
	- تتساقط أمطارها شتاءا
	- انخفاض شديد في درجات الحرارة
	- غابات التايغا

3- حدد البيئات الجغرافية على الكرة الأرضية مع تلوين كل بيئة بما يناسبها : ( 4 ن )

- البيئة الباردة باللون الأزرق
- البيئة الحارة باللون الأحمر
- البيئة المعتدلة باللون الأخضر

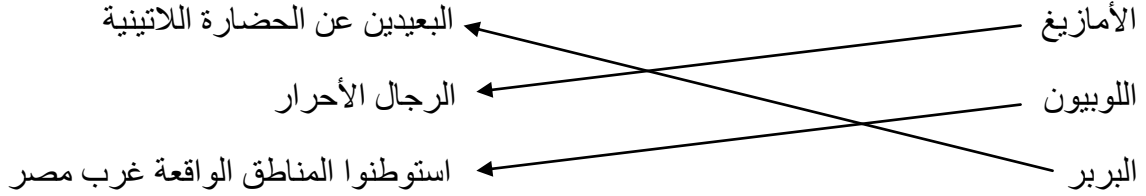


جزائر

تصحيح فرض الثلاثي الثاني في مادة الاجتماعيات

أولاً: تاريخ

1- إربط بسهم ما يناسب : ( 3ن )



2- إملأ الفراغات بالعبارات المناسبة : ( 2 ن )

يعود تواجد الإنسان في شمال إفريقيا إلى أزمنة موعلة في القدم حيث أنه استقر حول الأودية و المسطحات المائية العذبة و السهول ، و قد أوضحت آثاره التي كانت شاهدة على ذلك وجود مناطق ك عين الحنش

3- إشرح كيف كانت علاقة سكان شمال إفريقيا مع الفينيقيين : ( 2 ن )

استقر الفينيقيون في سواحل شمال إفريقيا ، و أسسوا مدينة قرطاج سنة 814 ق م ، و أقاموا مع سكانها علاقات متميزة مبنية على التعاون عن طريق الزواج ، و المبادلات التجارية

4 - رتب العبارات التالية بالأرقام (1.2.3) حسب التنظيم الاجتماعي لسكان شمال إفريقيا : ( 3 ن )

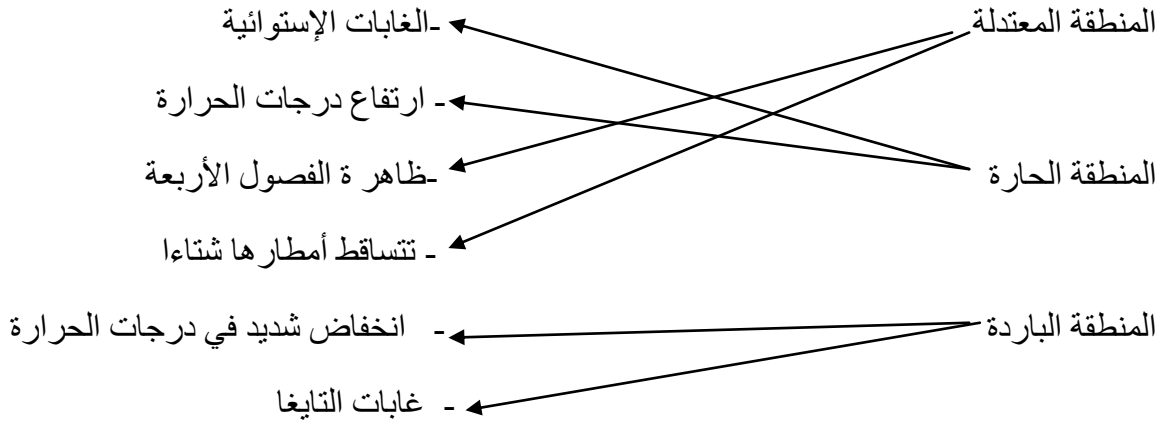
- العشيرة هي مجموعة من العائلات المنحدرة من جد واحد(2)
- القبيلة هي مجموعة من العشائر (3)
- الأسرة هي مجموعة من الأفراد تربط بينهم روابط متينة (1)

ثانياً : جغرافيا

1- أجب بصحيح أو خطأ ( 3 ن )

- السهول هي مساحات مرتفعة عن سطح الأرض (خطأ)
- الجبال هي تضاريس منبسطة لا تزيد عن 400 م ( خطأ)
- السهول الساحلية هي السهول التي تمتد على سواحل البحار والمحيطات ( صحيح)

2- اربط كل منطقة بما يميزها : ( 3 ن )

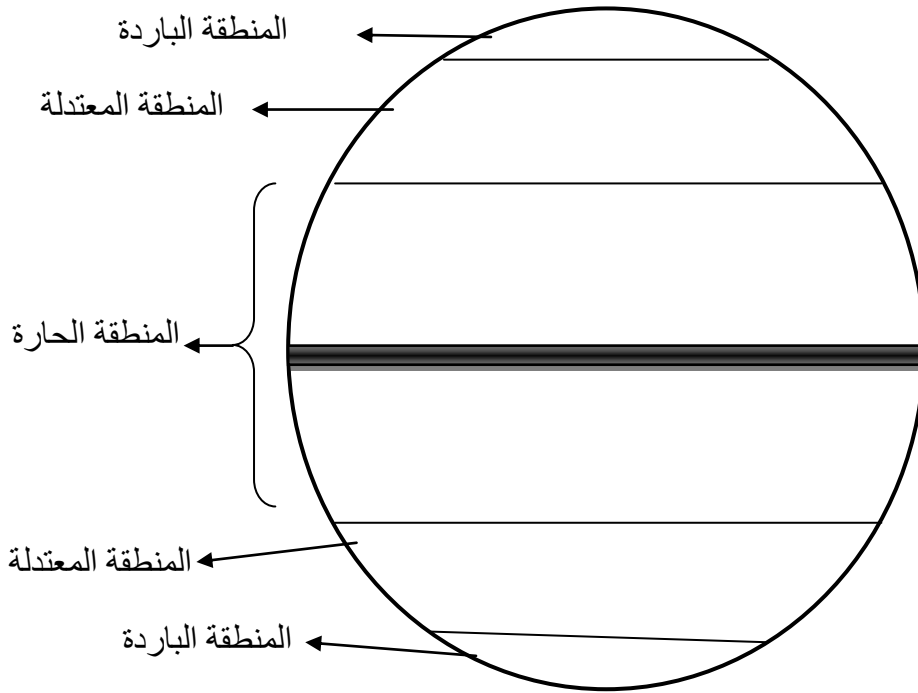


3- حدد البيئات الجغرافية على الكرة الأرضية مع تلوين كل بيئة بما يناسبها : ( 4 ن )

-البيئة الباردة باللون الأزرق

-البيئة الحارة باللون الأحمر

البيئة المعتدلة باللون الأخضر



حي قعلول - برج البحري - الجزائر

Web site : [www.ets-salim.com](http://www.ets-salim.com) / 021.87.16.89 : الفاكس - Tel-Fax : 021.87.10.51 : ☎