

I- التاريخ:

التمرين الأول: (03)

بعث الله عدة رسل إلى أقوام متعددة حدد ذلك عند:

المصريون ← الرسول المرسل إليهم

بلاد الرافدين ←

الرومان ←

2- اهتم المصريون بالنشاط الزراعي و ساعدهم في ذلك عاملين اذكرهما (02)

3- إليك السلم الزمني للرسالات السماوية أكمله (04)


محمد عليه الصلاة و السلام



3200 ق م

الوضعية الإدماجية: (04)

ناقشت أنت و احد زملاءك أن مختلف العلوم مثل: الحساب، الفلك، و الطب ظهرت عند المصريين أولا وهو يقول أنما ظهرت عند سكان بلاد الرافدين فاحتكما إليك .



التعليمية: اكتب فقرة من 10 اسطر تتكلم فيها عن: انجازات المصريين و سكان بلاد الرافدين في كل من علم: الحساب - الفلك - الطب.

II - جغرافيا:

1- تتميز المنطقة الحارة بوجود أربع مناخات اذكرها؟ (02)

2- اذكر النباتات و الحيوانات التي تعيش في مناخ البحر الأبيض المتوسط (02)

الوضعية الإدماجية: (03)


إن تعرفك على النطاقات المناخية المتنوعة دفع بك أنت و زملاءك للتساؤل حول أن تأثير الشمس على الكرة الأرضية له دور كبير في تقسيم هذه النطاقات

التعليمية:

بالاعتماد على السندات ارسم دائرة و حدد عليها النطاقات المناخية الثلاث



المنطقة المعتدلة



المنطقة الحارة

التاريخ:التمرين الأول (03):

1- بعث الله عدة رسل إلى أقوام متعددة حدد ذلك عند:

المصريون ← موسى عليه السلام

بلاد الرافدين ← إبراهيم عليه السلام

الرومان ← عيسى عليه السلام

2- العاملين الأساسيين للزراعة عند المصريين: (02)

نهر النيل - توفير التربة

3- السلم الزمني: (04)


عيسى عليه

السلام

موسى عليه

إبراهيم
عليه

محمد عليه الصلاة و السلام



3200 ق م 1800 ق م 1300 ق م التاريخ

الميلادي

الوضعية الإدماجية:

التقيط			المؤشرات	المعايير
تمكن كلي	تمكن جزئي	عدم التمكن		
0.5	0.25	0	كتابة فقرة من 10 اسطر عن إنجازات المصريين و بلاد الرافدين	الملائمة مع الوضعية
2.5			- إنجازات المصريين في الحساب و الفلك و الطب - إنجازات بلاد الرافدين في نفس العلوم	التناسق و الانسجام
0.5			المنهجية: مقدمة, عرض, خاتمة تسلسل - ترتيب - تكامل	
0.5	0.25		الخط - المقروءية - نظافة الورقة	التمييز و الإتقان

الجغرافيا:التمرين الأول: (04)

1- مناخات المنطقة الحارة: المناخ الاستوائي

المناخ الموسمي

المناخ المداري

المناخ الصحراوي

2- النباتات التي توجد في مناخ البحر الأبيض المتوسط:

الفلين - البلوط - الزيتون - الصنوبر

الحيوانات التي تعيش في مناخ البحر الأبيض المتوسط:

القردة - الأرنب - الثعالب - الذئاب

الوضعية الإدماجية: (03)

- رسم دائرة

- تحديد النطاقات المناخية